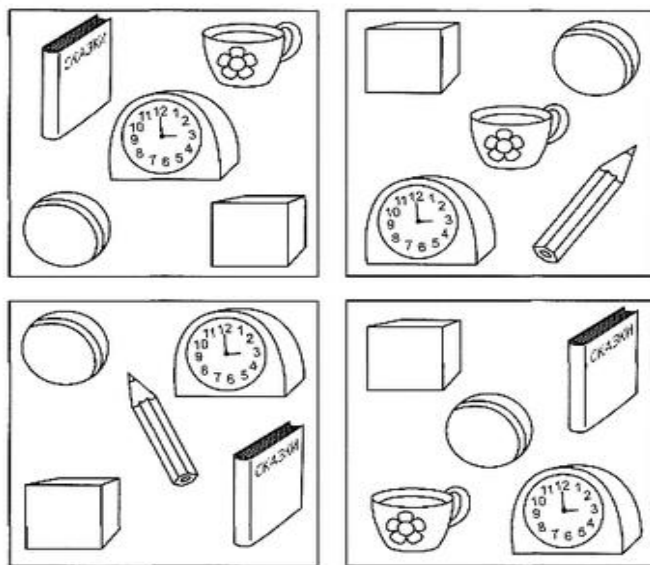


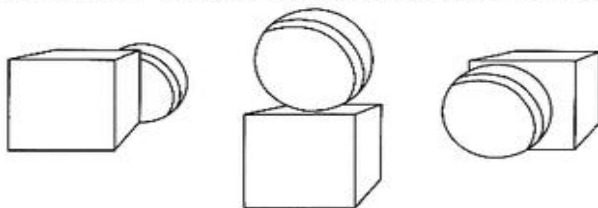
Развитие сенсорных процессов. 5 класс.

Дата	Тема	Задание
07.04	Ориентировка в помещении. Определение расположения предметов в помещении.	1)Выполнить задания на рис. 1 и 2. 2)Устно определять положение предметов в помещении
09.04	Ориентировка в линейном ряду.	1)Задание №3 – продолжить ряд 2)Устно №4 по вопросам: что первое и последнее справа, слева? Что посередине? Что между мячиком и чайником? Что за...? Что перед...? Что под, над...?

Раскрась все предметы, которые нарисованы в верхних правых углах квадратов, в синий цвет; в верхних левых - в красный; в нижних левых - в зелёный; в нижних правых - в коричневый; в центре - в жёлтый.




Раскрась мяч, который перед кубиком, в синий цвет, за кубиком - в красный, на кубике - в жёлтый.



Найди картинку и назови её.

От стрелки – 1 клетка вверх, 3 направо; от стрелки – 2 клетки вверх, 1 налево; от стрелки – 3 клетки вверх, 2 направо; от стрелки – 4 клетки вверх; от стрелки – 5 клеток вверх, 2 налево; от стрелки – 5 клеток вверх, 1 направо; от стрелки – 6 клеток вверх.



Продолжи ряд, не нарушая закономерности.

